

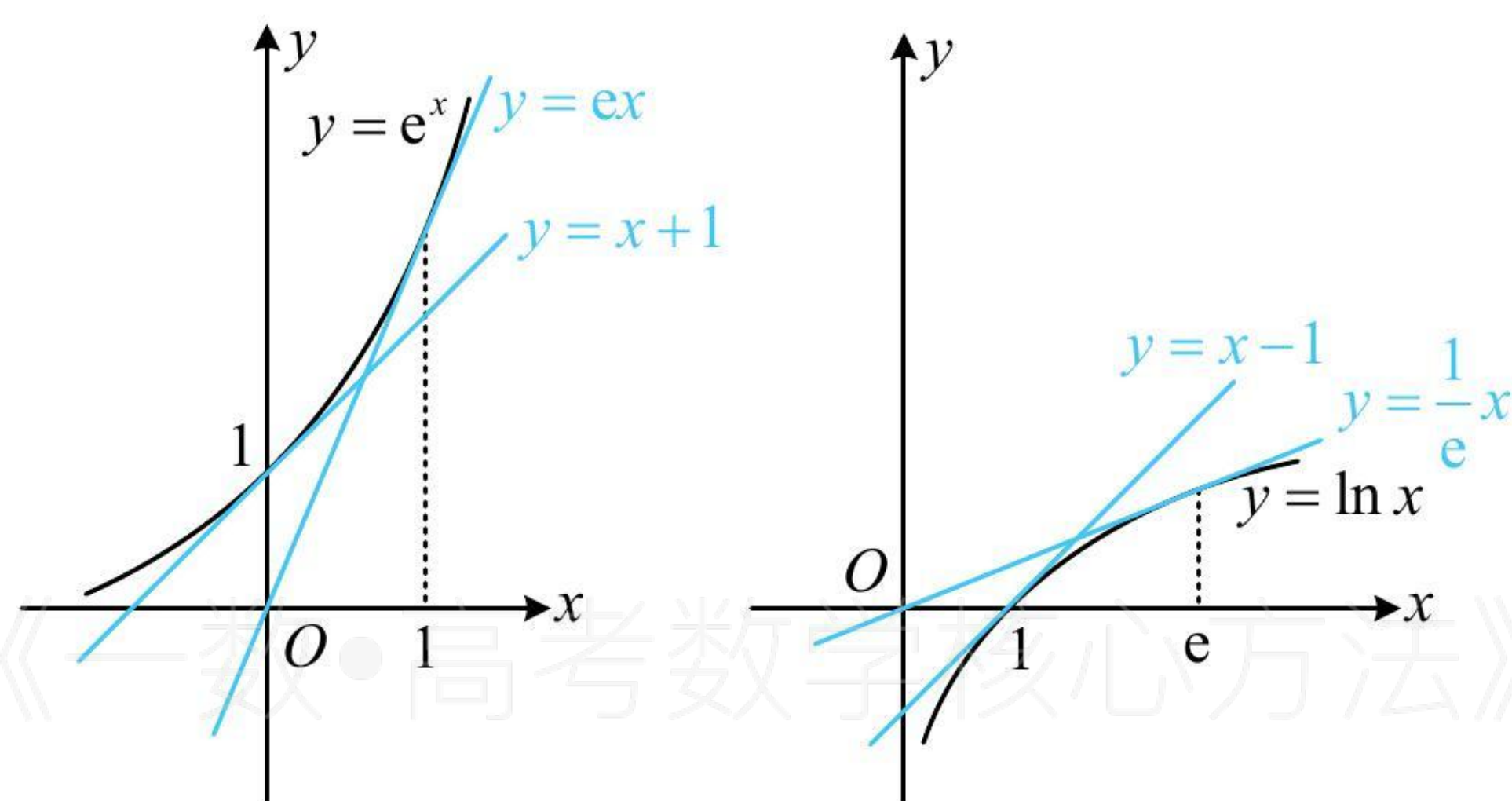
第2节 函数零点小题策略：含参 (★★★★☆)

内容提要

题干给出带参的函数 $f(x)$ 的零点个数，让求参数 a 的取值范围，这是不是我们在复习过程中经常遇到的一类题？这类题我们有两种常用的处理方法：

1. 全分离：将方程 $f(x)=0$ 等价变形为 $a=g(x)$ 的形式，研究水平直线 $y=a$ 与函数 $y=g(x)$ 图象的交点的个数；
2. 半分离：当全分离不易或全分离后的函数不好作图时，常将方程 $f(x)=0$ 等价变形为 $g(x)=h(x)$ 的形式，研究 $y=g(x)$ 和 $y=h(x)$ 这两个函数图象的交点个数。此解法需要让两端的函数都比较好画图。

提醒：本节及后续小节的解析中会反复用到一些常用的切线及其放缩不等式，如 $e^x \geq x+1$ ， $e^x \geq ex$ ， $\ln x \leq x-1$ ， $\ln(x+1) \leq x$ ， $\ln x \leq \frac{1}{e}x$ 等，这些切线与不等式都不复杂，也有清晰的图形背景（见下图），在后续的解析中，这些切线及不等式都直接使用，不给出证明。



典型例题

【例1】已知函数 $f(x)=\ln x-ax+1$ 有两个零点，则实数 a 的取值范围为_____。

解法1：由题意， $f(x)$ 有两个零点 \Leftrightarrow 方程 $\ln x-ax+1=0$ 有两个实根，

此方程无法直接解，尝试分离作图，研究交点，先试试全分离，

$$\ln x-ax+1=0 \Leftrightarrow ax=\ln x+1 \Leftrightarrow a=\frac{\ln x+1}{x},$$

所以问题等价于直线 $y=a$ 与函数 $y=\frac{\ln x+1}{x}$ 的图象有两个交点，

为了画出此函数的图象，可先求导研究单调性，

$$\text{设 } g(x)=\frac{\ln x+1}{x} (x>0), \text{ 则 } g'(x)=-\frac{\ln x}{x^2}, \text{ 所以 } g'(x)>0 \Leftrightarrow 0<x<1, \quad g'(x)<0 \Leftrightarrow x>1,$$

从而 $g(x)$ 在 $(0,1)$ 上 \nearrow ，在 $(1,+\infty)$ 上 \searrow ，且 $g(1)=1$ ， $\lim_{x \rightarrow 0^+} g(x)=-\infty$ ， $\lim_{x \rightarrow +\infty} g(x)=0$ ，

据此可作出 $g(x)$ 的大致图象如图1，由图可知当且仅当 $0<a<1$ 时， $f(x)$ 有两个零点，

故实数 a 的取值范围为 $(0,1)$ 。

解法2：对方程 $\ln x-ax+1=0$ 的研究，解法1用了全分离，下面试试半分离，

因为 $\ln x-ax+1=0 \Leftrightarrow \ln x=ax-1$ ，所以问题等价于直线 $y=ax-1$ 与函数 $y=\ln x$ 的图象有两个交点，

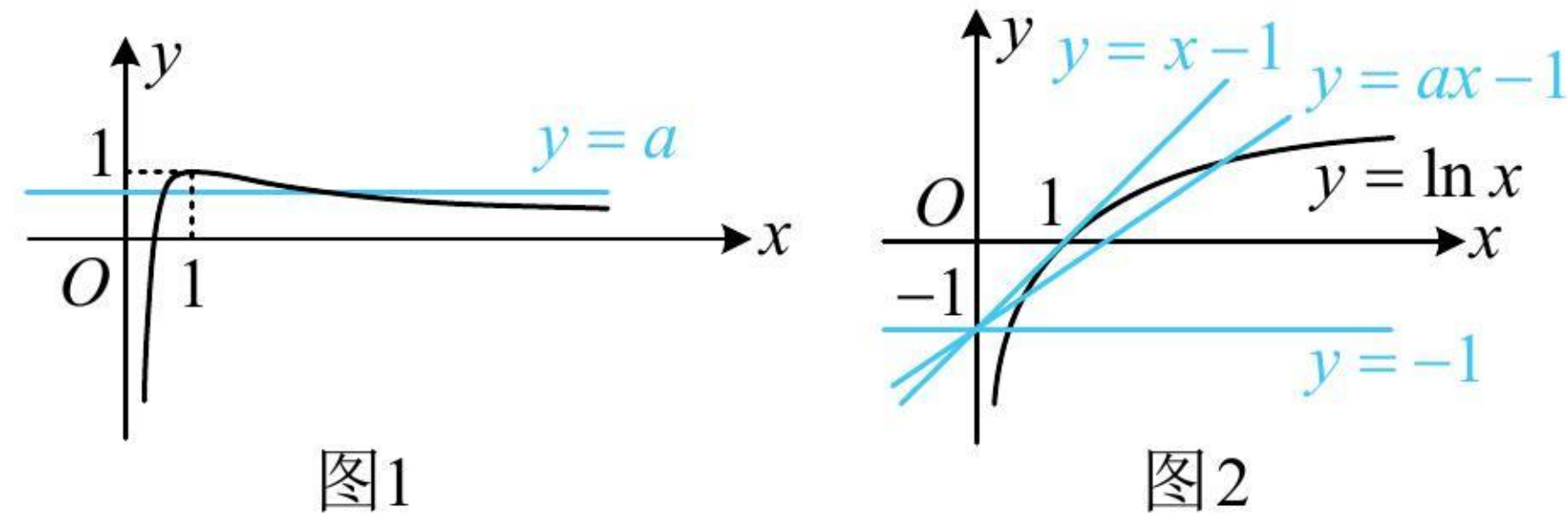
而 $y = ax - 1$ 表示过定点 $(0, -1)$ 且斜率为 a 的直线，

注意到函数 $y = \ln x$ 的图象的过点 $(0, -1)$ 的切线方程为 $y = x - 1$ ，如图 2，

当直线 $y = ax - 1$ 位于切线 $y = x - 1$ 和水平线 $y = -1$ 之间时，才会与 $y = \ln x$ 的图象有两个交点，

所以实数 a 的取值范围为 $(0, 1)$ 。

答案： $(0, 1)$



【变式】 已知函数 $f(x) = a \ln x - x + 1$ 有两个零点，则实数 a 的取值范围为_____。

分析： 由题意， $f(x)$ 有两个零点等价于方程 $a \ln x - x + 1 = 0$ 有两个实根，

接下来若用全分离，则可将 $a \ln x - x + 1 = 0$ 变形为 $a = \frac{x-1}{\ln x} (x \neq 1)$ ，

注意到右侧的函数 $y = \frac{x-1}{\ln x} (x \neq 1)$ 用初等的方法无法研究当 $x \rightarrow 1$ 时，函数值 y 的极限，

所以在高中数学的范畴内，本题用全分离无法求解，从而转向半分离。

解法 1： 先尝试一种简单的半分离，可将方程 $a \ln x - x + 1 = 0$ 等价变形为 $a \ln x = x - 1$ ，

下面直接讨论 a 取不同值时， $y = a \ln x$ 的图象与直线 $y = x - 1$ 的交点情况，

讨论的分界点是“ a 的正负”和“切线”这两个临界状态， $y = a \ln x$ 与 $y = x - 1$ 相切时， $a = 1$ ，

当 $a < 0$ 时，如图 1，两个图象只有一个交点，所以 $f(x)$ 只有 1 个零点，不合题意；

当 $a = 0$ 时， $f(x) = -x + 1 (x > 0)$ 有 1 个零点，不合题意；

当 $0 < a < 1$ 时，如图 2，两个图象有 2 个交点，满足题意；

当 $a = 1$ 时，如图 3，两个图象只有 1 个交点，不合题意；

当 $a > 1$ 时，如图 4，两个图象有 2 个交点，满足题意；

综上所述，实数 a 的取值范围为 $(0, 1) \cup (1, +\infty)$ 。

解法 2： 可以发现解法 1 半分离的方式导致模型较复杂，但若将 a 也除到右边，可以使问题的模型转化为直线绕定点旋转，图形的运动过程更简单，

$f(x) = 0 \Leftrightarrow a \ln x - x + 1 = 0 \Leftrightarrow a \ln x = x - 1$ ，下面我们把 a 除过去，先考虑 a 等于 0 的情形，

当 $a = 0$ 时，方程 $a \ln x - x + 1 = 0$ 即为 $-x + 1 = 0$ ，解得： $x = 1$ ，不合题意；

当 $a \neq 0$ 时，方程 $a \ln x = x - 1 \Leftrightarrow \ln x = \frac{1}{a}(x - 1)$ ，

所以问题等价于直线 $y = \frac{1}{a}(x - 1)$ 和函数 $y = \ln x$ 的图象有 2 个交点，

注意到函数 $y = \ln x$ 的图象上 $(1, 0)$ 处的切线方程为 $y = x - 1$ ，如图 3，

所以当 $\frac{1}{a} > 0$ 且 $\frac{1}{a} \neq 1$ 时，如图 5、图 6，直线 $y = \frac{1}{a}(x - 1)$ 和函数 $y = \ln x$ 的图象有 2 个交点，故 $a > 0$ 且 $a \neq 1$ 。

答案： $(0, 1) \cup (1, +\infty)$

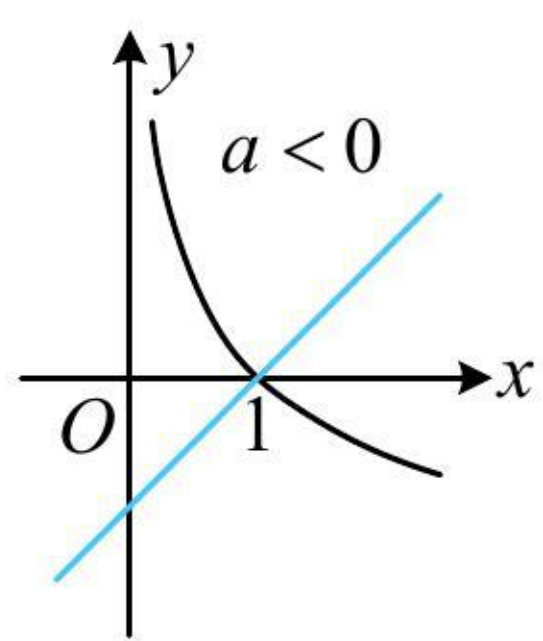


图1

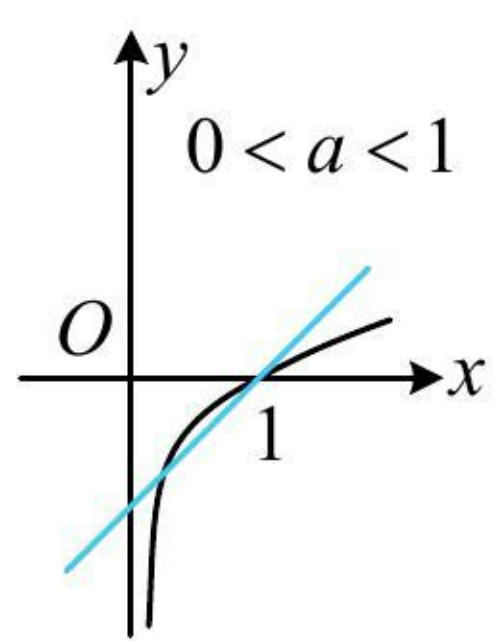


图2

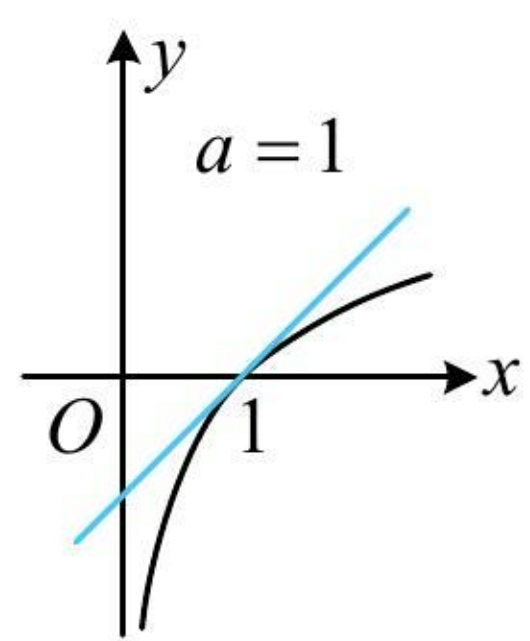


图3

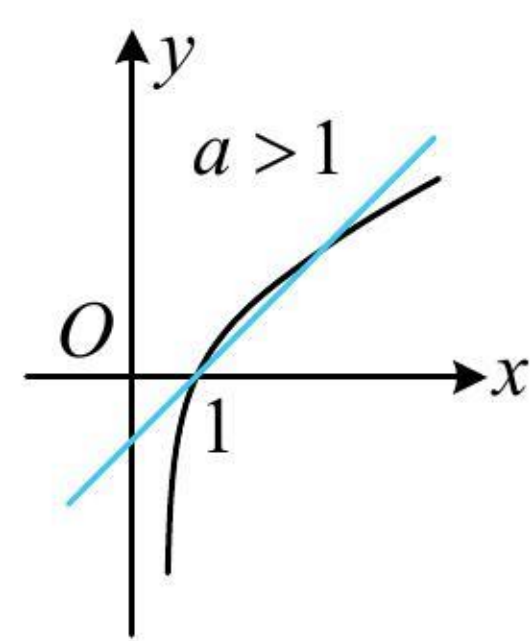


图4

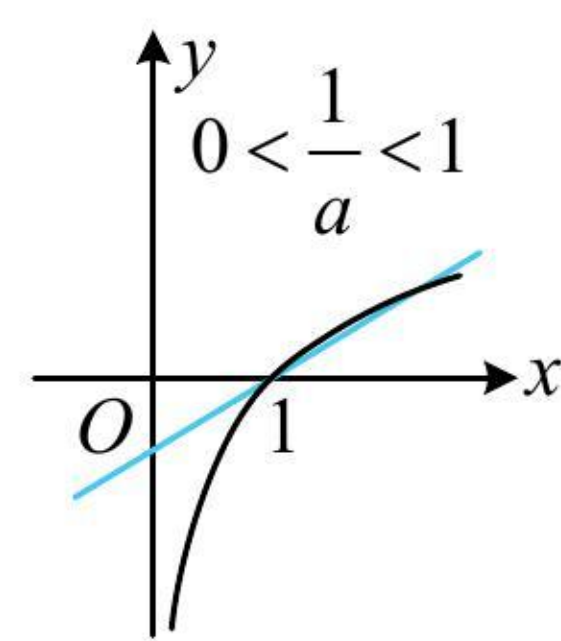


图5

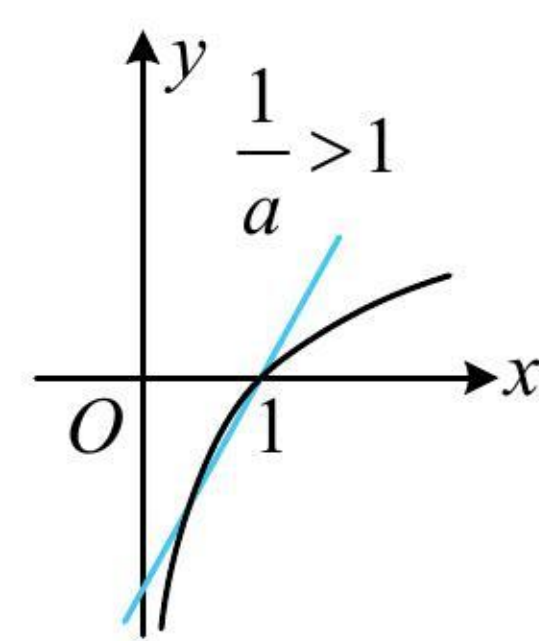


图6

【反思】 上面两道题，参数 a 在不同的位置，解题过程略有不同，但核心思路始终是分离参数，具体用半分离还是全分离，主要看怎么分离可使函数更好作图分析。在此基础上函数可以变得更复杂，但问题的实质都是分析参数的改变所带来的图形的运动过程。

【例 2】 若函数 $f(x) = \frac{|x-a|}{e^x} - 1$ 在 $[-2, +\infty)$ 上有三个零点，则实数 a 的取值范围为_____。

解析： 为了便于作图，将 $f(x) = 0$ 进行半分离， $f(x) = 0 \Leftrightarrow \frac{|x-a|}{e^x} = 1 \Leftrightarrow |x-a| = e^x$ ，

所以问题等价于曲线 $y = e^x (x \geq -2)$ 和曲线 $y = |x-a|$ 有 3 个交点，

当参数 a 发生变化时，曲线 $y = |x-a|$ 会怎样运动？它实际上就是折线 $y = |x|$ 在水平方向上平移，

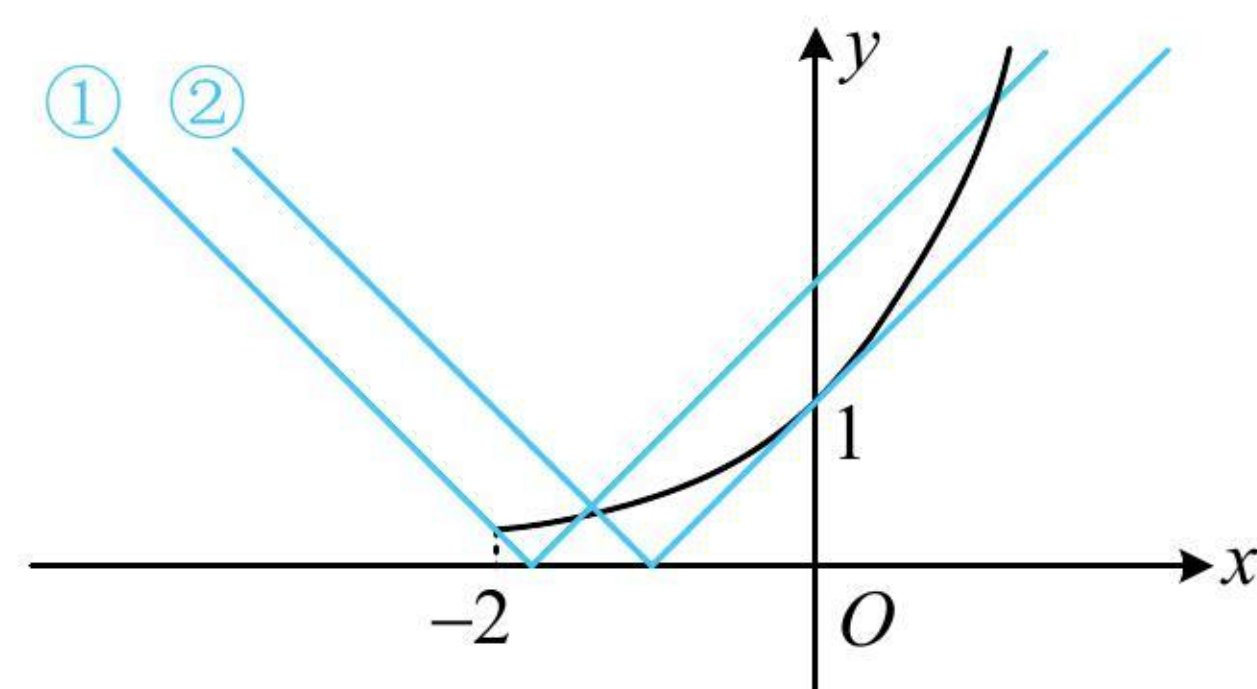
作出图象如下，两个临界状态如图中的①和②，

对于①，满足直线 $y = a - x$ 过点 $(-2, e^{-2})$ ，所以 $e^{-2} = a - (-2)$ ，解得： $a = e^{-2} - 2$ ；

对于②，满足直线 $y = x - a$ 与 $y = e^x$ 的图象相切， $(e^x)' = e^x$ ，令 $e^x = 1$ 得： $x = 0$ ，所以切点为 $(0, 1)$ ，

代入 $y = x - a$ 可求得 $a = -1$ ，故实数 a 的取值范围为 $[e^{-2} - 2, -1)$ 。

答案： $[e^{-2} - 2, -1)$



【反思】 本题的模型更复杂，但分析问题的方法仍与前面几道题一样。本题参数在绝对值里面，不易将其全分离，故用的半分离，图形的临界状态是相切和过端点，所以半分离时，需重点关注这两种状态。

【例 3】 (2018 · 新课标 I 卷) 已知函数 $f(x) = \begin{cases} e^x, & x \leq 0 \\ \ln x, & x > 0 \end{cases}$ ， $g(x) = f(x) + x + a$ ，若 $g(x)$ 存在 2 个零点，则

a 的取值范围为 ()

- (A) $[-1, 0)$ (B) $(0, +\infty)$ (C) $[-1, +\infty)$ (D) $[1, +\infty)$

解法 1: 将方程 $g(x)=0$ 进行半分离, 研究交点, $g(x)=0 \Leftrightarrow f(x)=-x-a$,

所以问题等价于函数 $y=f(x)$ 的图象与直线 $y=-x-a$ 有 2 个交点, 作出图象如图 1,

当直线 $y=-x-a$ 位于直线 l 下方 (含重合的情形) 时, 与函数 $y=f(x)$ 的图象有 2 个交点,

故直线在 y 轴上的截距 $-a \leq 1$, 解得: $a \geq -1$.

解法 2: 将方程 $g(x)=0$ 进行全分离, 研究交点, 也是可行的, $g(x)=0 \Leftrightarrow -a=f(x)+x$,

设 $h(x)=f(x)+x$, 则 $h(x)=\begin{cases} e^x+x, & x \leq 0 \\ \ln x+x, & x > 0 \end{cases}$, $h(x)$ 在 $(-\infty, 0]$, $(0, +\infty)$ 上均 \nearrow , 函数 $y=h(x)$ 的草图如图 2,

由图可知当且仅当 $-a \leq 1$ 时, 直线 $y=-a$ 与函数 $y=h(x)$ 的图象有 2 个交点, 所以 $a \geq -1$.

答案: C

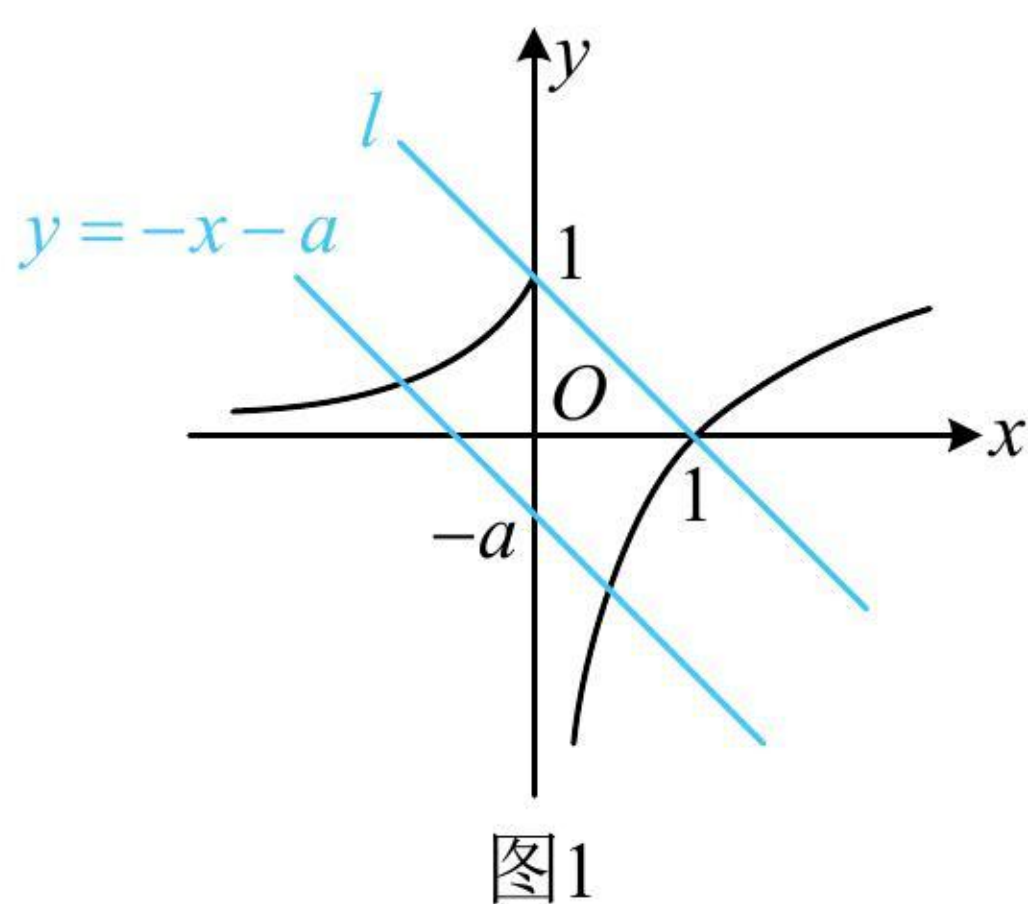


图1

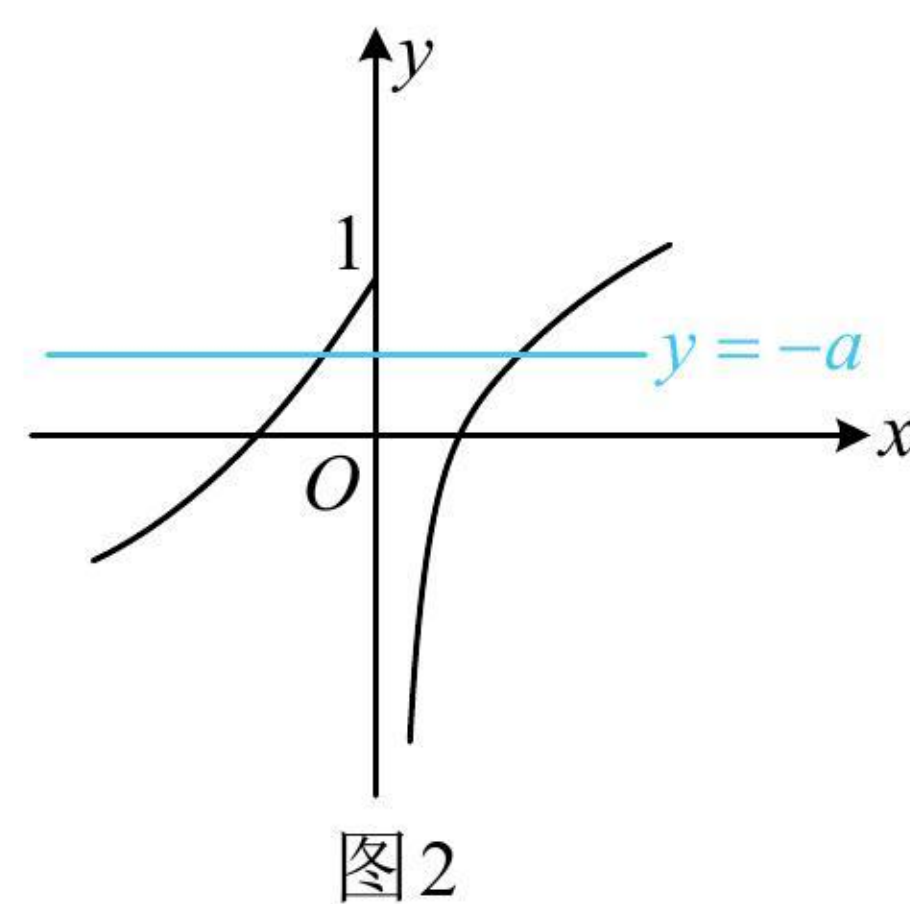


图2

【反思】即使函数类型变为分段函数, 这类题也可以考虑用全分离、半分离来进行求解.

《一数·高考数学核心方法》

强化训练

1. (2023·云南昆明模拟·★★) 已知函数 $f(x)=\begin{cases} -x^2-2x, & x \leq 0 \\ |\log_2 x - 1|, & x > 0 \end{cases}$, 若方程 $f(x)=a$ 有 4 个不同的实数根,

则实数 a 的取值范围是_____.

2. (2023·全国模拟·★★) 若函数 $f(x)=(x-1)e^x - a$ 在 $(-2, +\infty)$ 上只有 1 个零点, 则实数 a 的取值范围是_____.

3. (2022 · 内蒙古赤峰模拟 · ★★★) 已知函数 $f(x) = 3x - ae^x$ 有两个零点, 则实数 a 的取值范围为 ()

- (A) $(-\infty, \frac{3}{e})$ (B) $(0, \frac{3}{e})$ (C) $(0, \frac{e}{3})$ (D) $(-\infty, \frac{e}{3})$

4. (★★★) (多选) 设函数 $f(x) = \begin{cases} |\ln x|, & x > 0 \\ (x+1)e^x, & x \leq 0 \end{cases}$, 若函数 $g(x) = f(x) - b$ 有 3 个零点, 则实数 b 的取值

可能是 ()

- (A) 0 (B) $\frac{1}{2}$ (C) 1 (D) 2

5. (2019 · 天津卷 · ★★★) 已知函数 $f(x) = \begin{cases} 2\sqrt{x}, & 0 \leq x \leq 1 \\ \frac{1}{x}, & x > 1 \end{cases}$, 若关于 x 的方程 $f(x) = -\frac{1}{4}x + a$ 恰有两个互

异的实数解, 则 a 的取值范围为 ()

- (A) $[\frac{5}{4}, \frac{9}{4}]$ (B) $(\frac{5}{4}, \frac{9}{4}]$ (C) $(\frac{5}{4}, \frac{9}{4}] \cup \{1\}$ (D) $[\frac{5}{4}, \frac{9}{4}] \cup \{1\}$